

TREBALL D'ESTIU

2n d' ESO

DEPARTAMENT DE CIÈNCIES SOCIALS

NOM I COGNOMS :

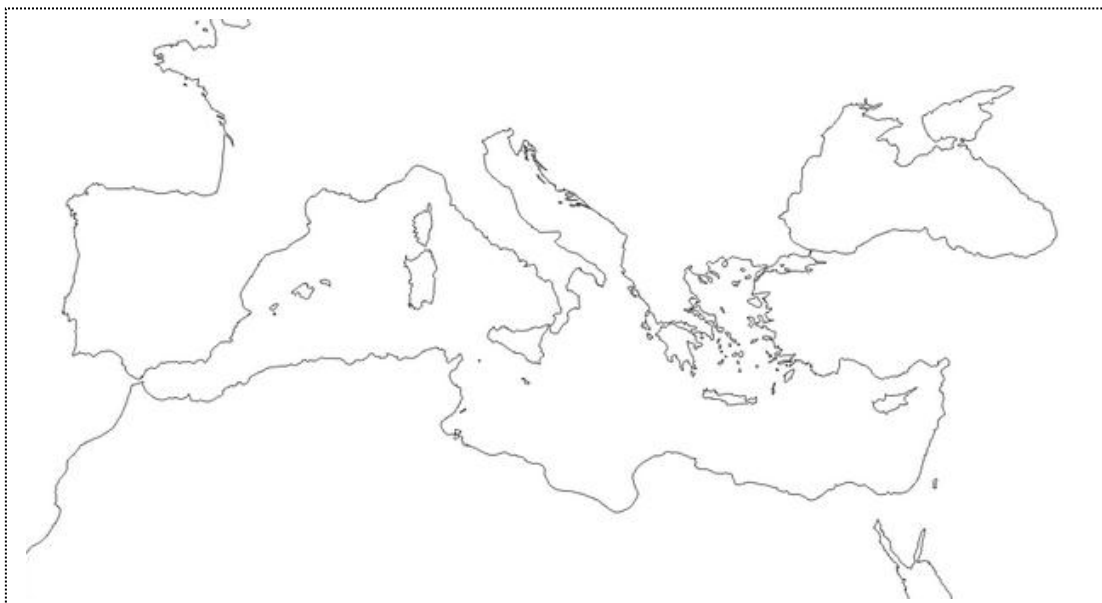
INDEX :	PAG.
1.- Exercici 1.- Mapa dels regnes germànics S. VI	3
2.- Exercici 2.- Mapa evolució I. Bizantí.	3
3.- Exercici 3.- Estructura de l'església Catòlica i la societat feudal.	4
4.- Exercici 4.- Informe d'esglésies romàniques i gòtiques.	5
5.- Exercici 5.- Expansió i cronologia de l'Islam.	7
6.- Exercici 6.-Parts fonamentals d'un castell, una ciutat medieval, un monestir...	8
7.- Exercici 7.- El Califat de Còrdova S.X.	10
8.- Exercici 8.- Els Regnes de la P. Ibèrica i els R. De Taïfes	11
9.- Exercici 9.- Els territoris cristians del Pirineu, S. X	12
10.- Exercici 10.- Esglésies en la ruta del Camí de Sant Jaume.	13
11.- Exercici 11.- Principals rutes del comerç medieval.	14
12.- Exercici 12.- L' Imperi europeu de Carles I.	15
13.- Exercici 13.- La Reforma religiosa.	16
14.- Exercici 14.- Els grans descobriments geogràfics.	17

Exercici 1.- Mapa, Pinta sobre aquest mapa mut d'Europa els regnes germànics en el segle VI. FONT: <http://www.goole.es>



LLEGENDA:


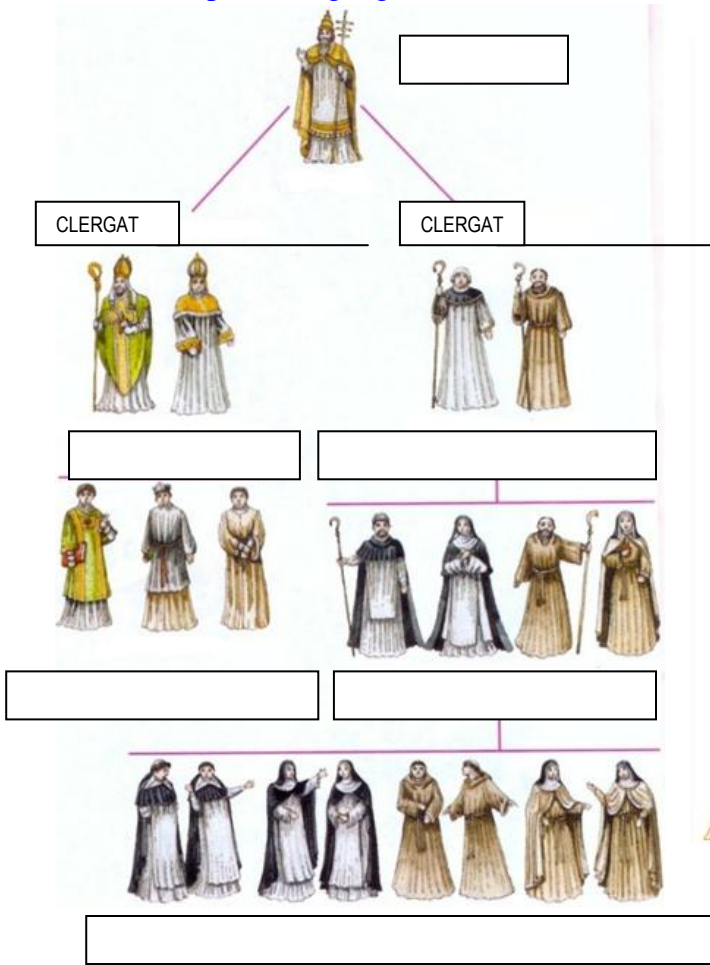
Exercici 2.- Pinta sobre aquest mapa mut d'Europa amb l'ajuda del teu llibre de text i internet. l'evolució de l' Imperi Bizantí. FONT: <http://www.goole.es>



LLEGENDA:

Exercici 3.- Observa l'estructura de l'Església catòlica i de la resta de la societat feudal durant l'Edat Mitja. Amb l'ajuda del teu llibre i d'Internet omple els apartats, i fes una petita comparació, també omple els forats de l'esquema de les relacions feudals.

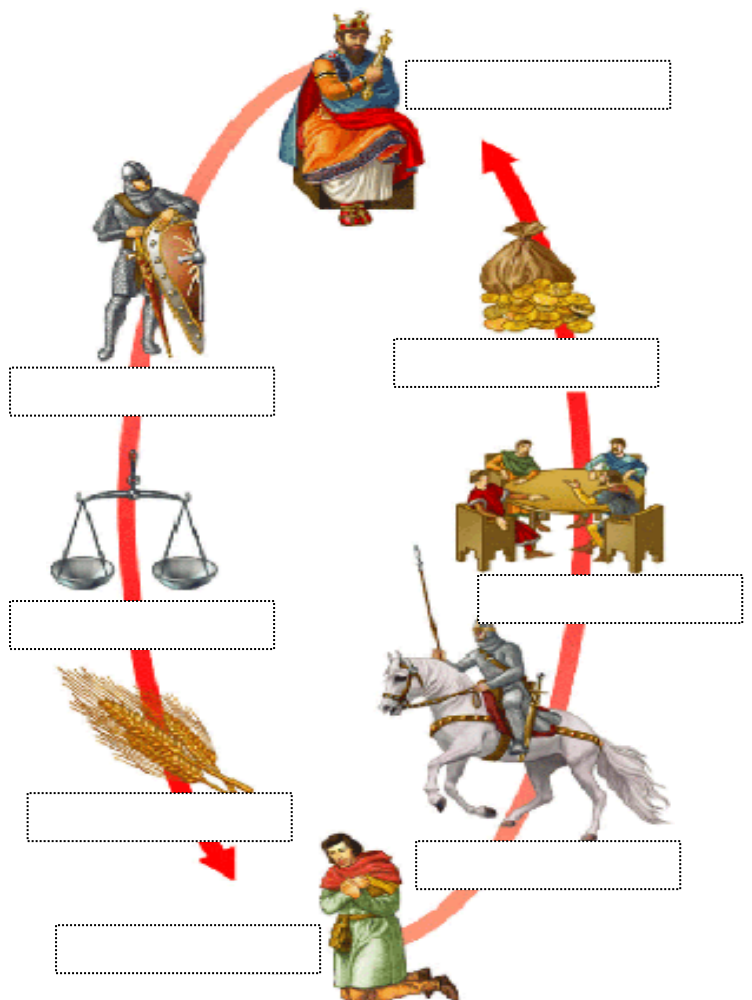
-Font: <http://www.google.es>, i llibre de Santillana de 2º ESO



Comparació .

Semblances.-

Diferències.-



Exercici 4.- Visualitza les següents imatges d'esglésies i catedrals romàniques i gòtiques, i amb l'ajuda d'internet, fes un petit informe. *Ubicació, any de creació, qui la va manar construir, característiques, informació interessant...*

-Font: <http://www.google.es>

ESGLÉSIES ROMÀNIQUES :



SANT CLIMENT DE TAÜLL.-



SANT PERE DE RODA.-



SANTA MARIA DE RIPOLL.-



SANT MARTÍ DE FROMISTA.-

ESGLÉSIES I CATEDRALS GÒTIQUES :



CATEDRAL DE BURGOS.-



MONESTIR DE POBLET.-



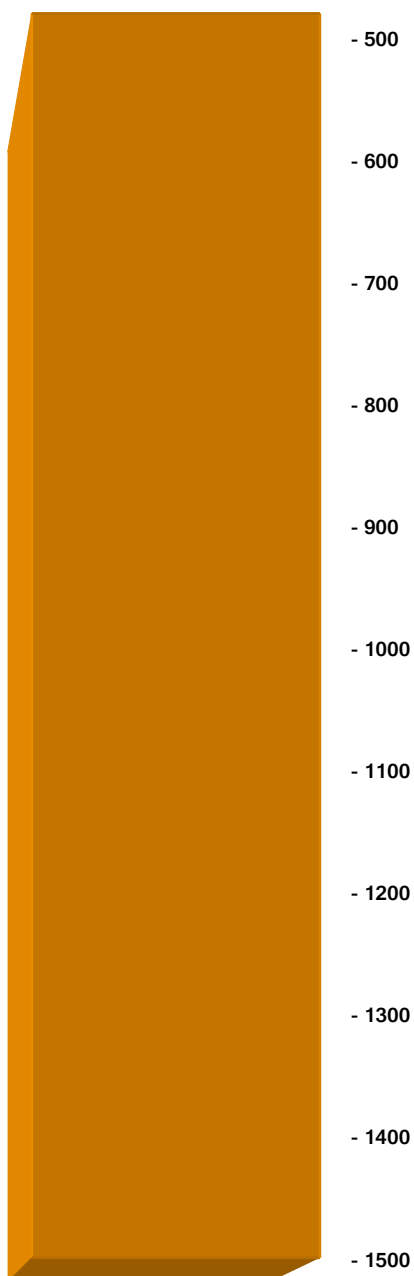
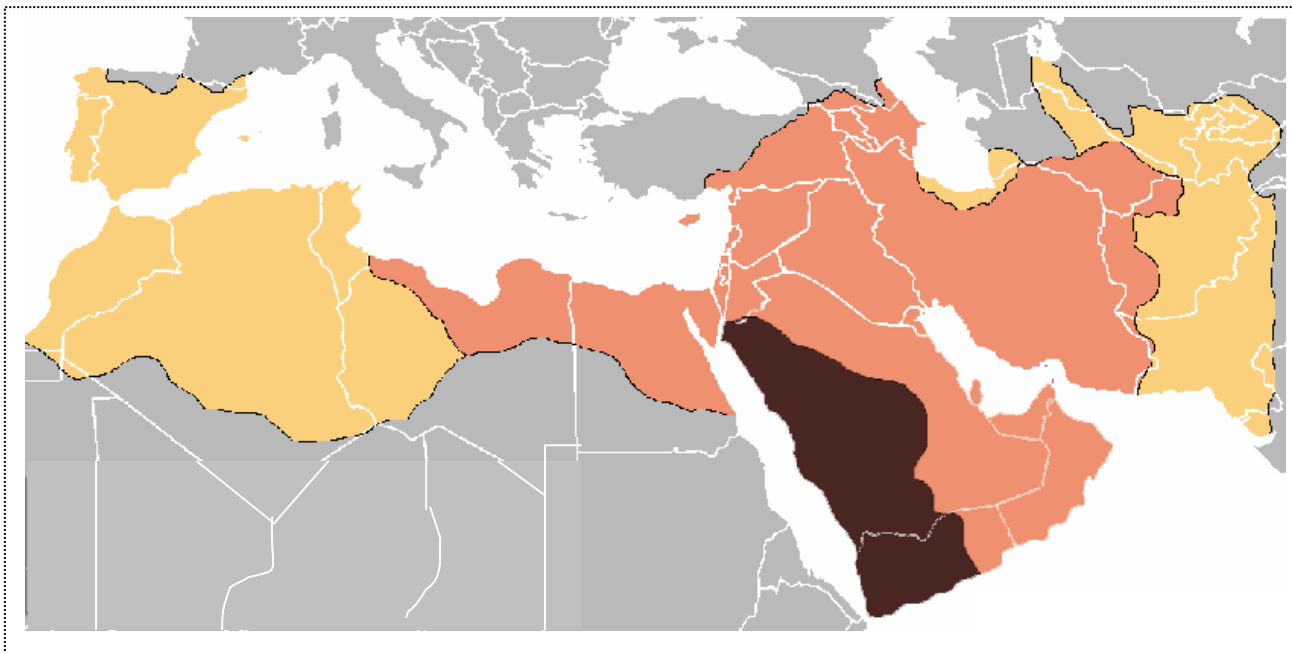
SANTA MARIA DEL MAR.-



CATEDRAL DE TOLEDO.-

Exercici 5.- Pinta sobre aquest mapa mut d'Europa amb l'ajuda del teu llibre de text i internet. l'expansió de l'Islam durant l'Edat Mitja, i l'eix cronològic d'aquesta expansió.

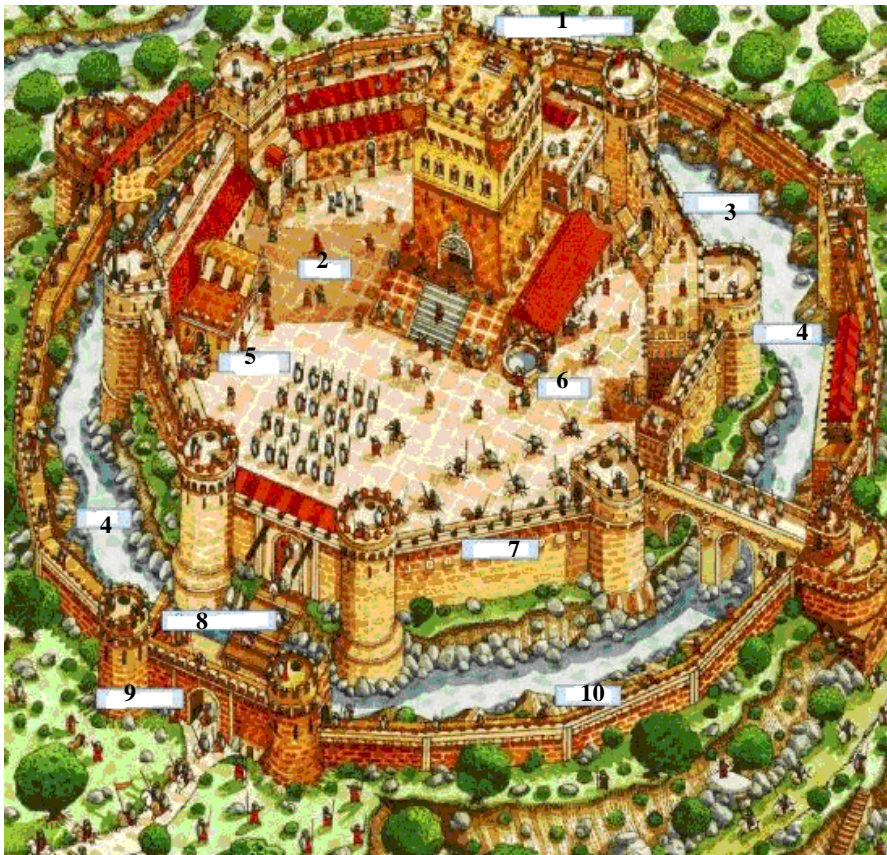
-Font: <http://www.google.es>



LLEGENDA:

Exercici 6.- Amb l'ajuda del teu llibre i d'internet omple quines són les parts fonamentals de les imatges que et presentem: Un castell, un monestir, una ciutat islàmica medieval, i una catedral gòtica.

-Font: <http://www.google.es>



CASTELL

- 1.-
- 2.-
- 3.-
- 4.-
- 5.-
- 6.-
- 7.-
- 8.-
- 9.-
- 10.-



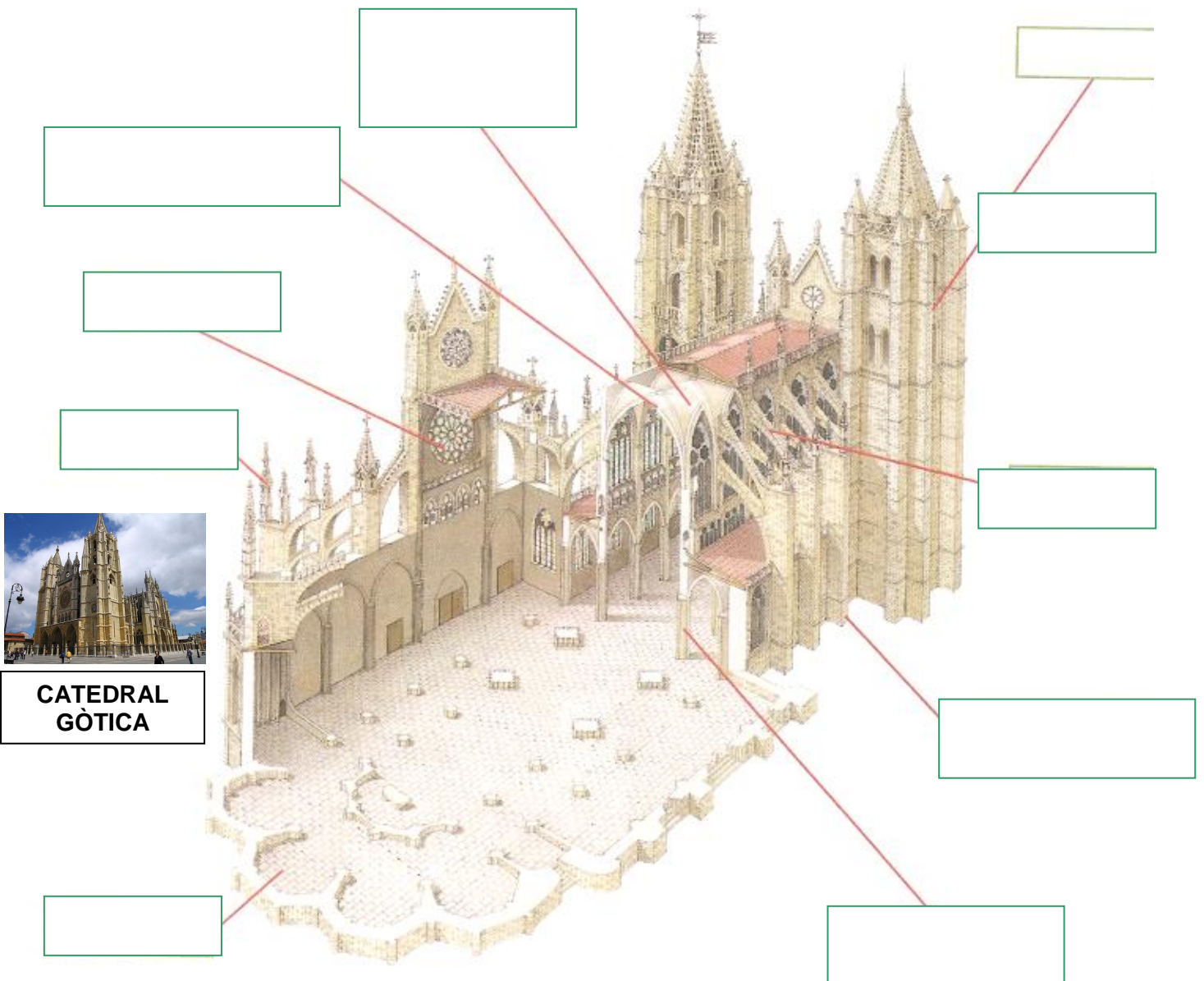
MONESTIR

- 1.-
- 2.-
- 3.-
- 4.-
- 5.-
- 6.-

**CIUTAT ISLÀMICA
MEDIEVAL**



- 1.-
- 2.-
- 3.-
- 4.-
- 5.-
- 6.-
- 7.-



**CATEDRAL
GÒTICA**

Exercici 7.- **El Califat de Còrdova, S. X.** Amb l'ajuda del teu llibre i d'internet escriu-hi tots els conceptes que es demanen.

-Font: <http://www.google.es>



a) Anota al lloc corresponent del mapa :

El nom de les dues ciutats principals del Califat : Còrdova i Sevilla.

b) Abd al -Rahman III va guanyar el seu prestigi en diverses campanyes militars. La més destacada va ser la que va dur a terme sobre Toledo. Escriu el nom d'aquesta ciutat i coloreix la ruta de la seva campanya.

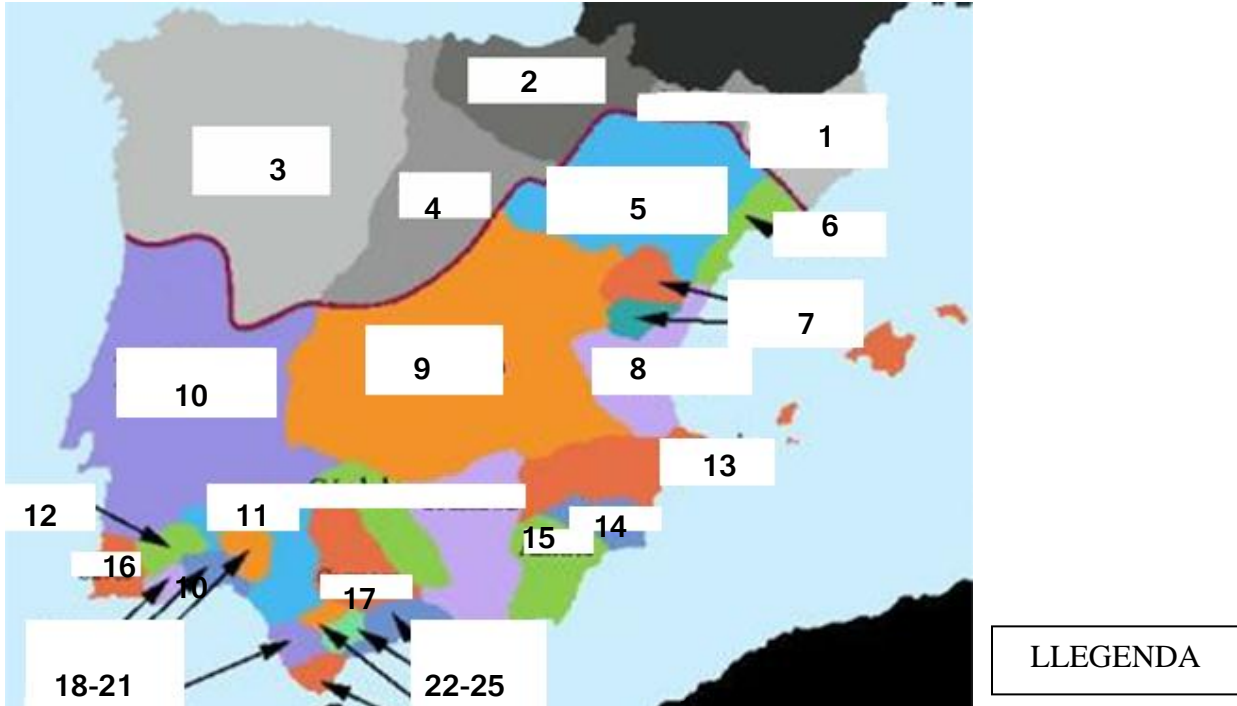
c) Al - Mansur va controlar amb força els regnes cristians per mitjà de nombroses campanyes militars, entre les quals van destacar les següents :

- La de Còrdova a Saragossa, i en què va assaltar PAMPLONA i BURGOS.
- La que va dur a terme a TORTOSA des d'on va arribar a BARCELONA i va saquejar aquesta ciutat.
- La més famosa, la que va fer contra COÏMBRA, ZAMORA, LLEÓ I SANTIGAO DE COMPOSTEL·LA.
- L'última, la que el va dur de nou a terres castellanques poc abans de morir.

ESCRIU ELS NOMS DE LES CIUTATS I ACOLOREIX LES RUTES DE LES SEVES CAMPANYES.

Exercici 8.- Amb l'ajuda del teu llibre i d'internet omple **quins eren els regnes més importants del nord de la península Ibèrica i els regnes de TAIFES més importants al voltant de 1.040, S. XI**

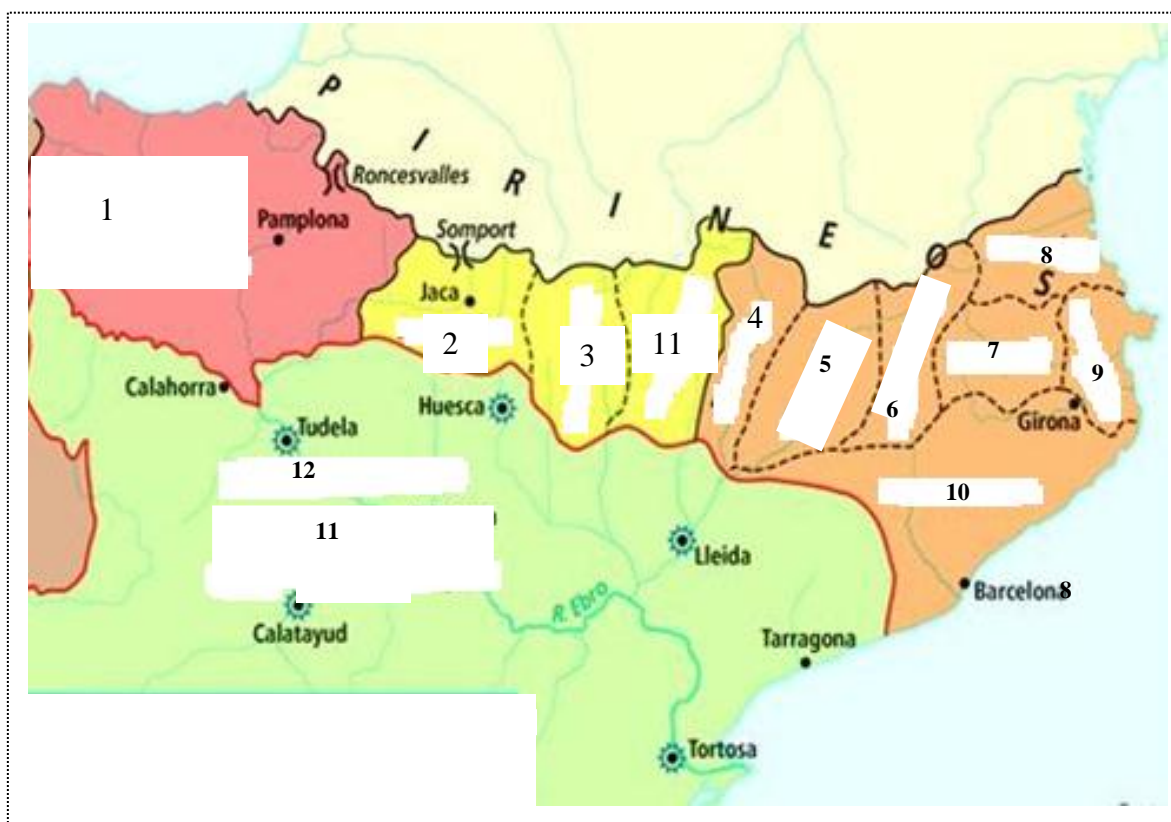
-Font: <http://www.google.es>



1 Regne.-	2 Regne.-
3 Regne.-	4 Regne.-
5 Regne.-	6 Regne.-
7 Regne.-	8 Regne.-
9 Regne.-	10 Regne.-
11 Regne.-	12 Regne.-
13 Regne.-	14 Regne.-
15 Regne.-	16 Regne.-
17 Regne.-	18 Regne.-
19 Regne.-	20 Regne.-
21 Regne.-	22 Regne.-
23 Regne.-	24 Regne.-
25 Regne.-	

Exercici 9.- Amb l'ajuda del teu llibre i d'internet omple els noms dels territoris cristians als Pirineus, al final del segle X, i fes una breu biografia del comte Guifré el Pelòs.

-Font: <http://www.google.es>




LLEGENDA:

- | | |
|------|------|
| 1.- | 2.- |
| 3.- | 4.- |
| 5.- | 6.- |
| 7.- | 8.- |
| 9.- | 10.- |
| 11.- | 12.- |

GUIFRÉ EL PELÒS

Exercici 10.- Amb l'ajuda d'internet fes un petit informe de les següents esglésies de la ruta del Camí de S. Jaume. *any de creació, qui la va manar construir, característiques, informació interessant...*

-Font: <http://www.google.es>



Santa Maria Magdalena de Vezelay

Catedral de León



Catedral de Santiago de Compostela

Exercici 11.- Principals rutes del comerç medieval. Amb l'ajuda del teu llibre de text i d'internet omple el següent mapa amb:

Àrees comercials principals. Rutes comercials i fires. Productes comercials. Ciutats més

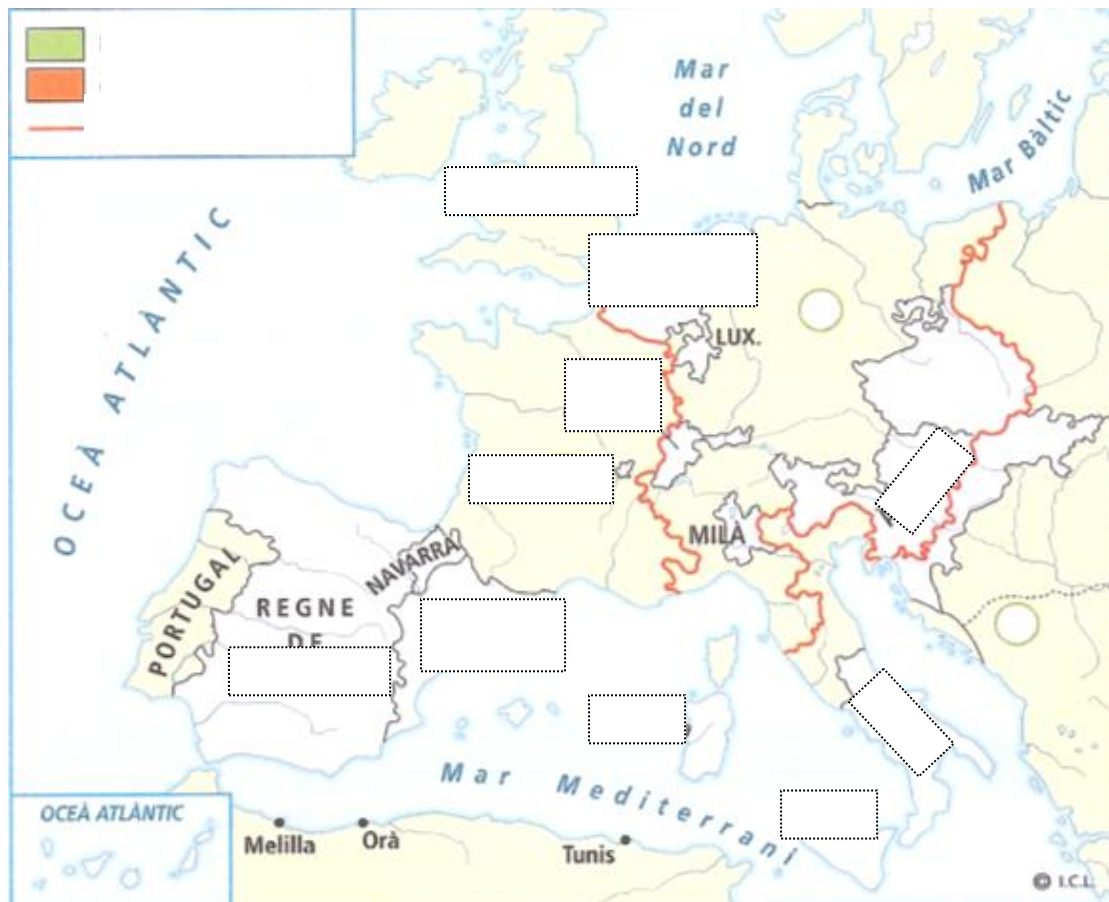


PRINCIPALS FIRES :

PRINCIPALS PORTS I CIUTATS :

Exercici 12.- L'imperi europeu de Carles I. Amb l'ajuda del teu llibre de text i d'internet omple el següent mapa i respon les qüestions plantejades.

-Font: <http://www.google.es>



L'IMPERI EUROPEU DE CARLES I

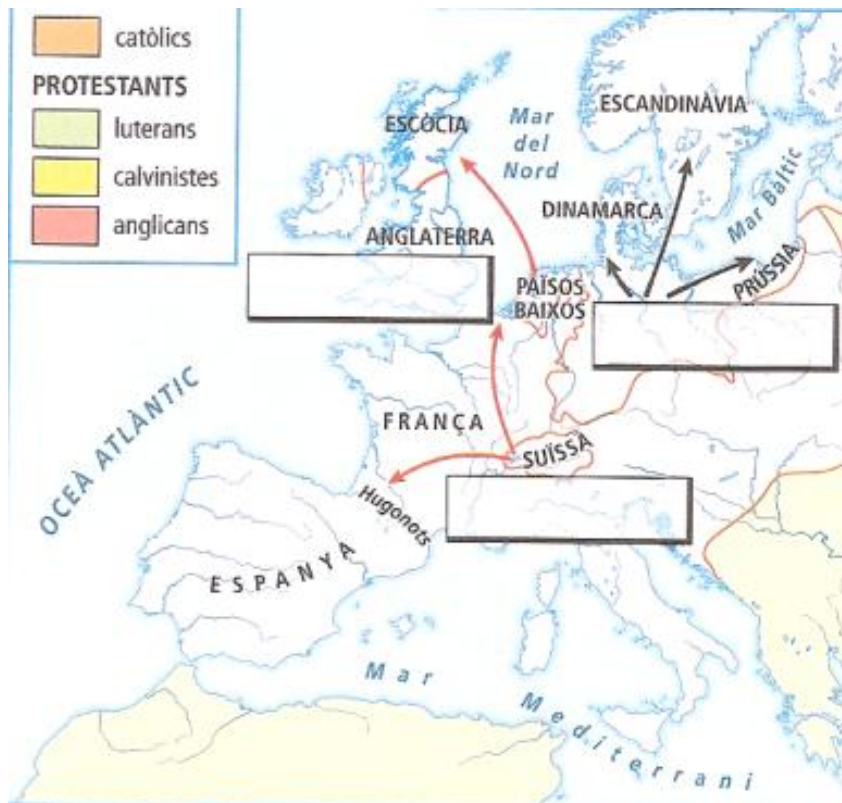
- 1 Per treballar el mapa de la làmina sobre l'imperi de Carles I, has de tenir en compte la llegenda i seguir els passos assenyalats a continuació:
 - a) En primer lloc, escriu al mapa els noms dels territoris, anotats en cursiva, que Carles I va rebre en herència:
 - Del seu pare, Felip de Borgonya, va rebre els *Països Baixos*, *Luxemburg* i el *Franc Comtat*.
 - De la seva mare, Joana de Castella, va rebre *Navarra* i el *regne de Castella*, a més de *Melilla*, *Orà*, les illes *Canàries* i els territoris americans.
 - Del seu avi matern, Ferran d'Aragó, va heretar la *Corona d'Aragó*, *Nàpols* i les illes de *Sicília* i *Sardenya*.
 - I del seu altre avi, Maximilià d'Àustria, va rebre les possessions alemanyes dels Habsburg entre les quals hi havia *Àustria*.
 - b) A continuació, acoloreix cadascun dels territoris que has anotat al mapa segons el color que indica la llegenda.
 - c) L'herència del seu avi Maximilià d'Àustria, a més de constar de diversos territoris, comportava els drets de successió a la corona de l'imperi alemany. Apunta al mapa *Imperi alemany* i ressegueix-ne els límits amb el color corresponent de la llegenda.
 - d) Entre els problemes interns als quals va haver de fer front Carles I al començament del seu regnat van destacar la revolta de les *Comunitats* i les *Germanies*.
Escriu aquestes paraules al costat dels signes de revoltes situats a les seves possessions espanyoles.
 - e) En els conflictes exteriors, Carles I es va enfrontar a França pel control del ducat de *Milà*, i la va derrotar a la batalla de Pavia. I per impedir l'expansió dels turcs pel Mediterrani, Carles I va ocupar *Tunísia*.
Anota al mapa el nom d'ambdós llocs i acolorix-los amb el color de la llegenda referent a les conquestes de Carles I.
 - f) El germà de Carles I, Ferran, va ser elegit rei de Bohèmia i d'*Hongria* i es va haver d'enfrontar a l'expansió de l'*Imperi Turc* cap a l'Europa central.
Escriu el nom dels territoris en cursiva i acolorix-los segon s'indica a la llegenda, tenint en compte que Hongria va ser ocupada pels turcs.
- 2 Defineix aquests conceptes:
 - *Pau d'Augsburg*:
 - *Germanies*:
 - *Villalar*:
- 3 Escriu el nom d'aquestes persones al costat del fet amb el qual es relacionen:

<i>Padilla</i>	<i>Maximilià</i>	<i>Francesc I</i>	<i>Luter</i>
----------------	------------------	-------------------	--------------

 - *Rei de França*:
 - *Emperador d'Alemanya*:
 - *Protestantisme*:
 - *Cap dels comuns*:

Exercici 13.- **La Reforma religiosa.** Amb l'ajuda del teu llibre de text i d'internet omple el següent mapa i respon les qüestions plantejades.

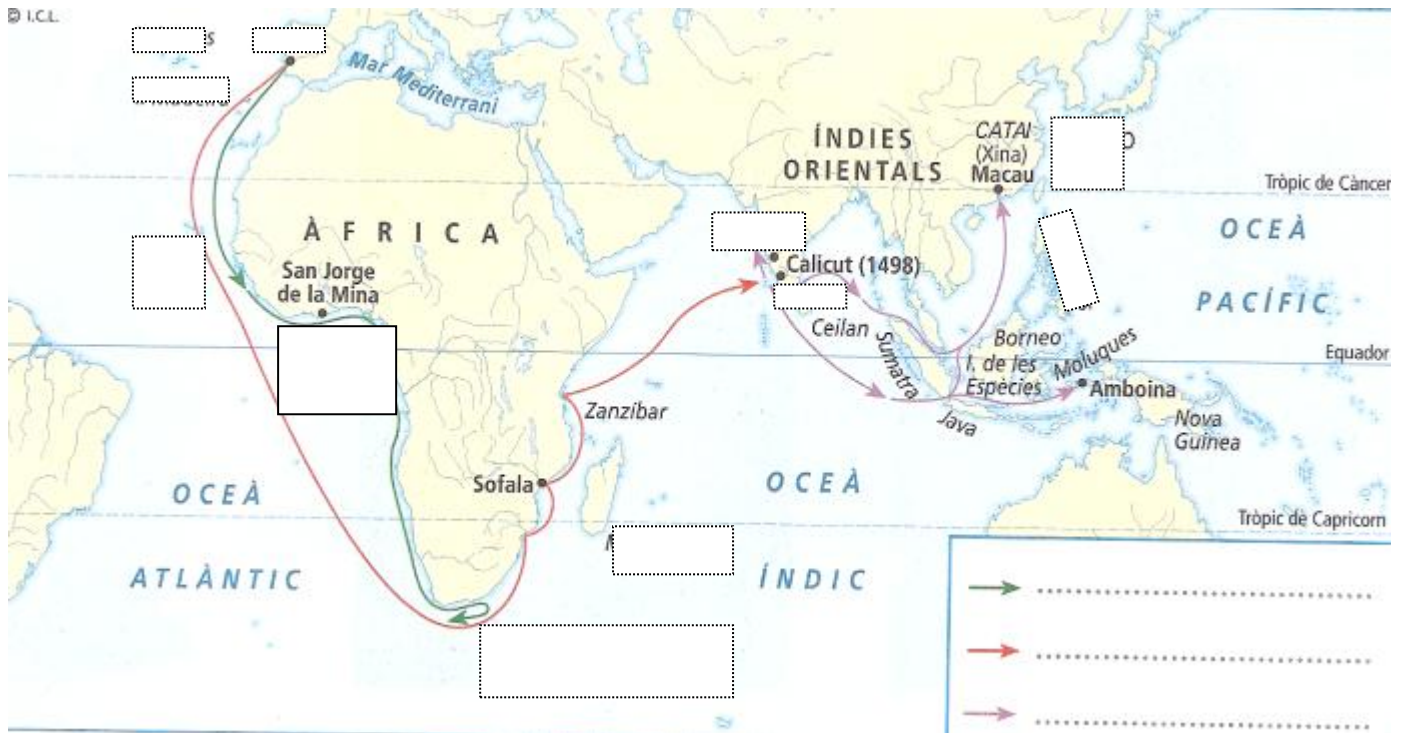
-Font: <http://www.ooole.es>



- A partir de la llegenda del mapa, coloreix els territoris que estan en blanc segons quina era la doctrina majoritària.
- Escriu al mapa el nom de l'impulsor de cada Església reformada.
- Completa les frases següents:
 - Els prínceps i els alemanys van donar suport a per reforçar la seva davant Carles V i el
 - Des d'Alemanya, les doctrines de Luter es van expandir per
 - El calvinisme es va estendre pels i pel sud de
 - on van rebre el nom de

Exercici 14.- El grans descobriments geogràfics. Amb l'ajuda del teu llibre de text i d'internet omple el següent mapa i respon les qüestions plantejades.

-Font: <http://www.google.es>



Fes una breu biografia de:
HERNAN NÚÑEZ CABEZA DE VACA.-

HERNAN CORTES.-

FRANCISCO PIZARRO.-

