

TREBALL D'ESTIU

3r d' ESO

DEPARTAMENT DE CIÈNCIES SOCIALS

NOM I COGNOMS :

ÍNDEX :

	PAG.
1.- Gràfiques de piràmides d'edat. Exercici 1.	3
2.- Gràfica lineal. Exercici 2.	5
3.- Gràfica de barres. Exercici 3.	6
4.- Gràfiques de sectors. Exercici 4.	7
5.- Cançó sobre migracions. Exercici 5.	8
6.- Acudits gràfics sobre migracions. Exercici 6	9
7.- Notícia sobre sectors econòmics. Exercici 7	10
8.- Exercici sobre taxes. Exercici 8	11
9.- Preguntes de Vocabulari i informació general. Exercici 9	12

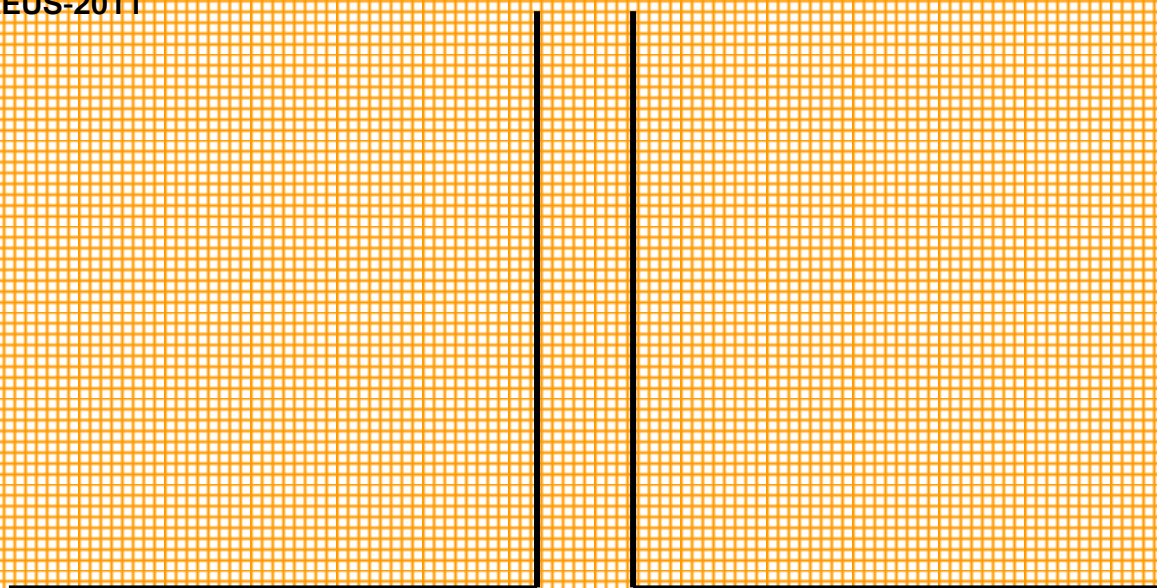
Exercici 1.-

Fes les següents piràmides d'edat: REUS, BAIX CAMP, CATALUNYA . 2011

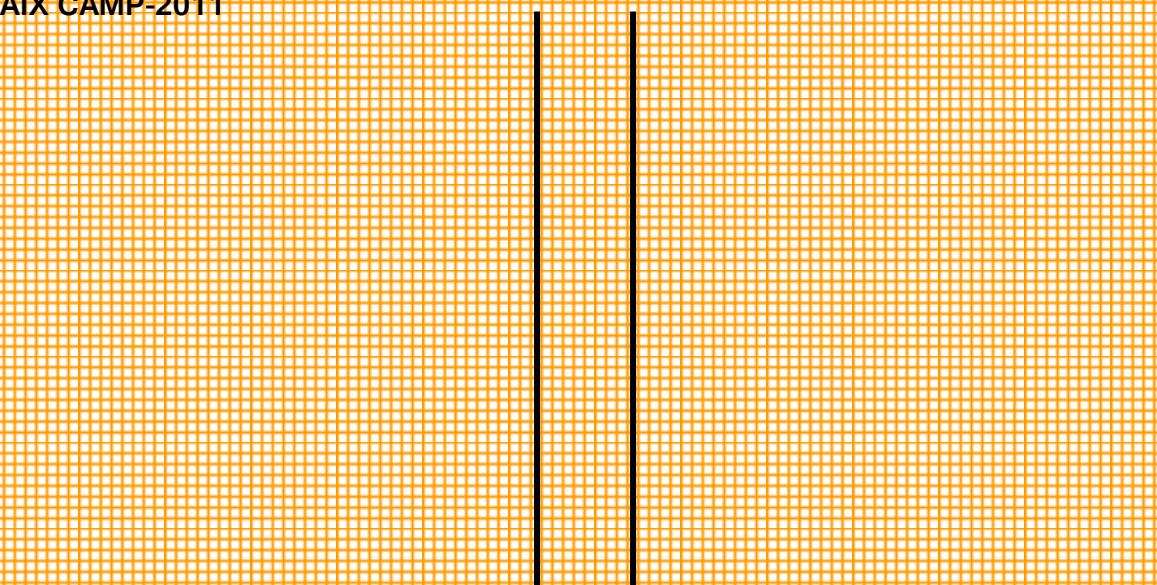
Font: <http://www.idescat.cat>

Població	Reus	Baix Camp	Catalunya
Població. Per grups d'edat. Homes. 2011			
De 0 a 14 anys	9.493	16.834	602.076
De 15 a 64 anys	36.326	66.403	2.595.159
De 65 a 84 anys	5.877	11.082	479.466
De 85 anys i més	703	1.277	55.495
Total	52.399	95.596	3.732.196
Població. Per grups d'edat. Dones. 2011			
De 0 a 14 anys	9.151	16.127	565.754
De 15 a 64 anys	36.050	64.418	2.511.170
De 65 a 84 anys	7.586	13.235	606.330
De 85 anys i més	1.523	2.571	124.168
Total	54.310	96.351	3.807.422

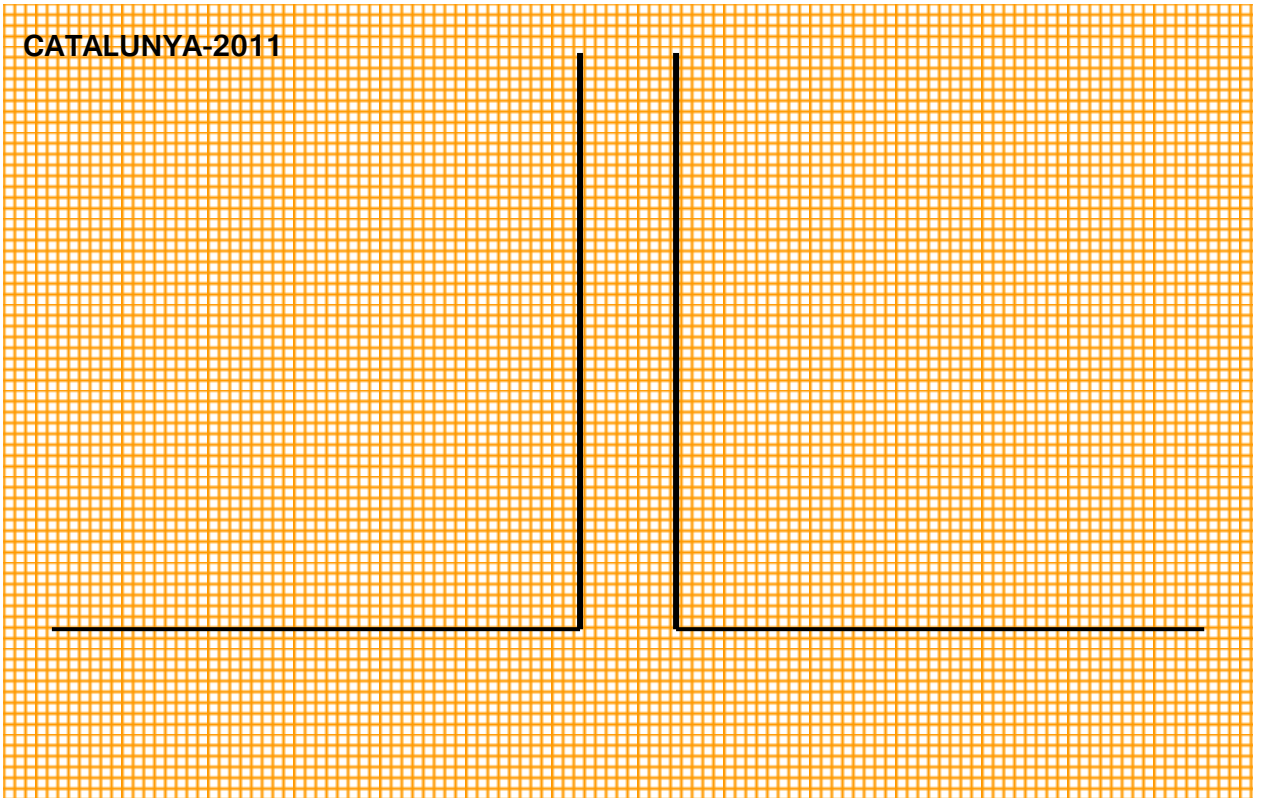
REUS-2011



BAIX CAMP-2011



CATALUNYA-2011



En les tres piràmides d'edat assenyala:

1.- Els sectors de població.

a.- La Població activa.

b.- La població jubilada.

c.- La població escolar.

2.- El tipus de piràmide en cada

cas, amb les seves característiques.

Exercici 2.-

Fes una gràfica lineal amb la població d'aquests municipis. 2011

Alforja Baix Camp

Població (2011) 1.866

les Borges del Camp Baix Camp

Població (2011) 2.146

Duesaigües Baix Camp

Població (2011) 236

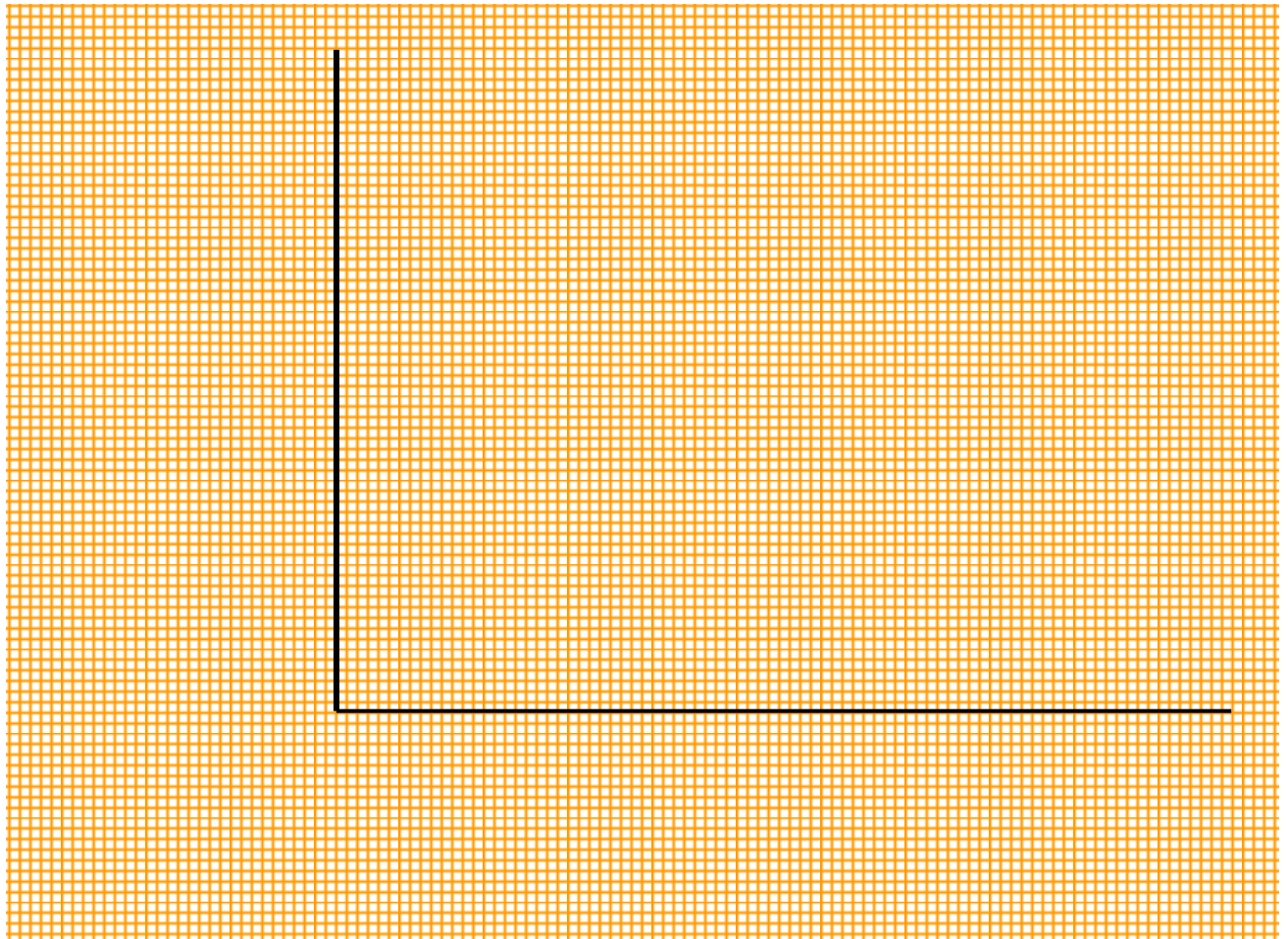
Cambrils Baix Camp

Població (2011) 33.008

Riudoms Baix Camp

Població (2011) 6.466

Fes un comentari de la gràfica:



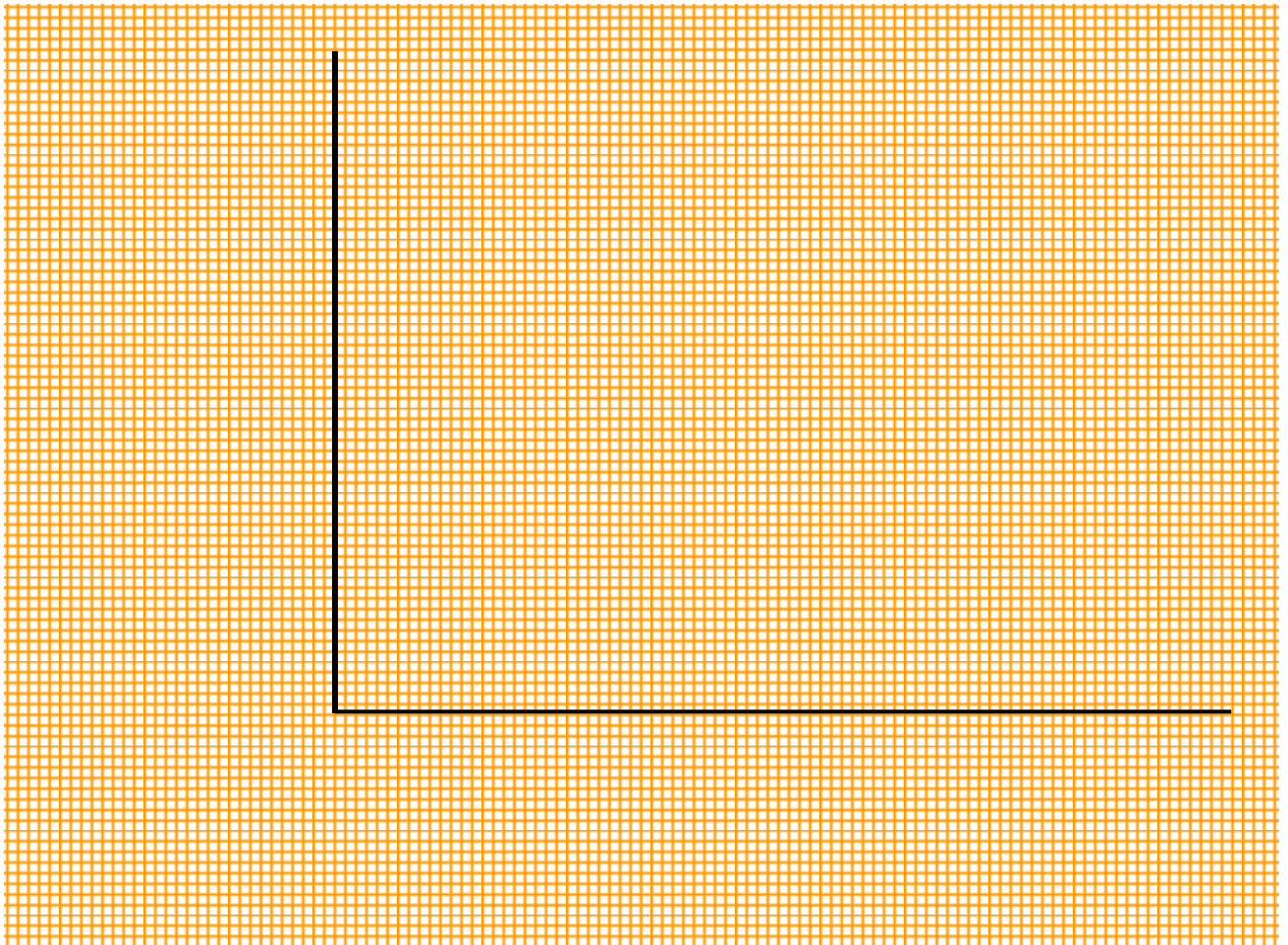
Exercici 3.-

Fes una gràfica de barres. Immigració externa segons edat .2010

Font: <http://www.idescat.cat>

**Immigració externa segons edat
Catalunya. 2010.**

	Edat				Total
	Menys de 16 anys	16 a 34	35 a 54	55 i més	
Epanyols	1.507	1.916	1.418	897	5.738
Estrangers	18.268	65.572	28.586	6.330	118.756



Fes un comentari dels resultats obtinguts en 4 línies:

.....

.....

.....

.....

.....

Exercici 4.-

Fes dues gràfiques de sectors –quesitos- sobre l'evolució demogràfica de Catalunya i Espanya.

Font: <http://www.idescat.cat>

Evolució demogràfica Catalunya.

	2012	2011	2010	2009	2008	2007	2006	2005	2004
Població	7.565	7.539	7.512	7.475	7.364	7.211	7.135	6.995	6.813
Índex	384,8	383,3	382,0	380,2	374,6	366,8	362,9	355,8	346,6

(Milers d'habitants i índex base 1900=100)

Font: Institut d'Estadística de Catalunya i INE. Padró municipal d'habitants

* Les dades del 2012 són provisionals

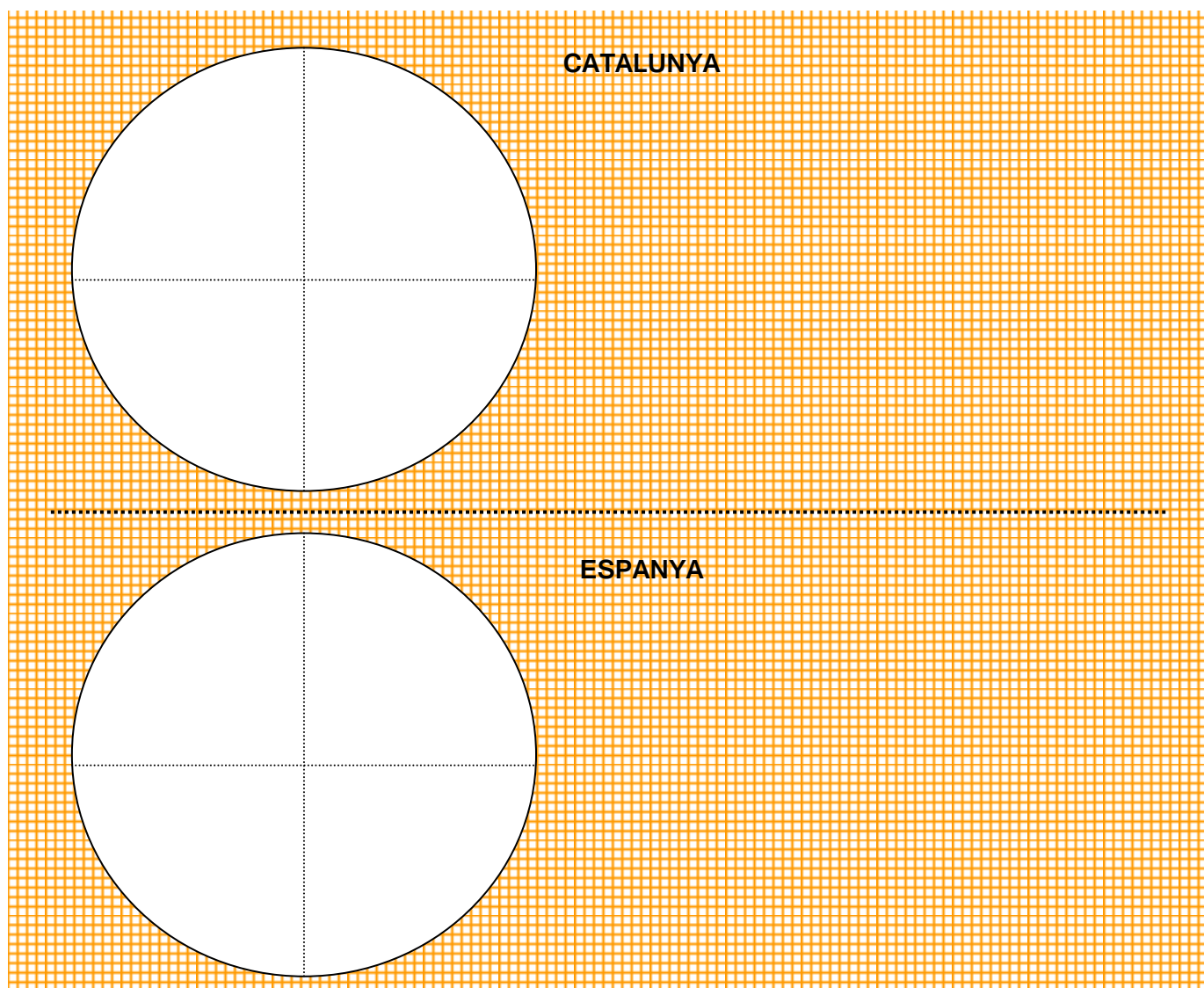
Evolució demogràfica Espanya.

	2012	2011	2010	2009	2008	2007	2006	2005	2004
Població	47.212	47.151	47.021	46.746	46.158	45.201	44.709	44.109	43.198
Índex	253,6	253,3	252,6	251,1	247,9	246,9	246,1	242,8	237,8

(Milers d'habitants i índex base 1900=100)

Font: INE

* Les dades del 2012 són provisionals



Exercici 5.-

Analitza la lletra d'aquesta cançó, i respon les qüestions plantejades.

Font: <http://www.medeletras.com/>

Esta es la vida del emigrante
del vagabundo del sueño errante.
Coge tu vida en tu pañuelo
con tu pobreza tira pa'lante.

Si encuentras un destino
si encuentras el camino
tendrás que irte a ese lugar
el polvo del camino
cubre tu rostro amigo
con tu miseria a ese lugar.

Un dios maldijo la vida del emigrante
serás mal visto por la gente en todas partes
serás odiado por racistas maleantes.
Y la justicia te maltrata sin piedad.

Todos hermanos. Todos farsantes
hacen mentiras con las verdades
buscas trabajo y tienes hambre
pero no hay sitio pal emigrante.

Si encuentras un destino si encuentras
el camino tendrás que irte a ese lugar
el polvo del camino cubre tu rostro amigo
con tu miseria a ese lugar.

Un dios maldijo la vida del emigrante
serás mal visto por la gente en todas partes
serás odiado por racistas maleantes.
Y la justicia te maltrata sin piedad.

La tierra de occidente, ya no tiene
vergüenza,
arrasa nuestra tierra, nos roba la riqueza
¡Qué bien se come de restaurante!
¡Cuánta miseria pal emigrante!

¡Qué bien se come de restaurante!
¡Cuánta miseria pal emigrante!

Nuestros hijos se mueren.
Estómago vacío. Tú lo ves por la tele
después de haber comido.
Nuestros hijos se mueren.
Estómago vacío.
Tú lo ves por la tele después de haber
comido.

¡qué bien se come de restaurante!
¡cuánta miseria pal emigrante!
¡qué bien se come de restaurante!
¡cuánta miseria pal emigrante!

Un dios maldijo la vida del emigrante
serás mal visto por la gente en todas partes
serás odiado por racistas maleantes.
Y la justicia te maltrata sin piedad.

Somos distintos, somos iguales.
Pero en la calle nadie lo sabe.
Pan para todos. Tenemos hambre.
Pero los ricos no lo comparten.

Somos distintos
somos iguales.

CELTAS CORTOS - EL EMIGRANTE

1.- Assenyala les idees més importants contingudes en la cançó

.....
.....

2.- “Un Dios maldijo la vida del emigrante serás mal visto por la gente en todas partes...”.

Comenta el sentit d'aquesta frase.

.....


3.- “Nuestros hijos se mueren. Estómago vacío. Tú lo ves por la tele después de haber comido...”. Comenta el sentit d'aquesta frase.

.....
.....

Exercici 6.-

Analitza les imatges dels acudits gràfics , i respon les qüestions plantejades.

Font: <http://www.google.es>



EL ROTO

1.- Analitza la imatge, quina realitat planteja.-

.....

.....

.....

2.- A qui representen els personatges del fons de la imatge?, i els el primer plànol?.-

.....

.....

.....



FARO

1.- Analitza la imatge, i comenta la realitat que planteja.-

.....

2.- Fes una classificació de les migracions segons els factors que les originen.

.....

.....

.....

Exercici 7.-

Analitza la següent notícia , i respon les qüestions plantejades.

Font: <http://elpais.com/diario>

EL PAIS DOMINGO, 2 de mayo de 2010

El nuevo mapa del vino catalán

La DO Catalunya se consolida y las otras buscan su nicho con más calidad

Los consumidores beben cada vez menos vino, pero el que compran lo quieren con calidad. Así habla la estadística: pese a la crisis, el consumo de vino de mesa cae el 17% sobre el año anterior. Sube el 4% el de vinos tranquilos con Denominación de Origen (DO), según el Observatorio Español del Mercado del Vino.

Esta tendencia beneficia a Cataluña, donde el consumo de *vino de batalla* es residual y donde, de forma singular, coexisten 10 denominaciones distintas, cava aparte. A ellas se sobrepone desde 2000 la DO Catalunya, convertida en una *marca paraguas* que ha ido ganando aplastante protagonismo. Su consolidación en el mercado, de la mano de las grandes bodegas y ante el desmayo de viticultores perjudicados como los del Penedès, está cambiando el mapa del vino catalán. La DO Catalunya obliga a las demás denominaciones a reforzar su singularidad, a especializarse y a ganar calidad.

"En 2000, vendimos 22,5 millones de botellas. En 2009, 51,8 millones. Claro que ha habido un movimiento de vinos a nuestra DO", señala Antón Castilla, secretario de la DO Cataluña. Y apostilla: "el tirón de la marca Catalunya ayuda a exportar". Según el Ministerio del Medio Rural, la progresión del volumen de vino cualificado con la DO autonómica avanzó el 30,3% entre 2003 y 2008, frente al retroceso de las DO Penedès, Terra Alta, Tarragona y Conca de Barberà.

1.- Fes un resum en 5 línies del contingut d'aquesta notícia.-

.....

.....

.....

.....

2.- Esbrina què és una Denominació D'origen [D O].

.....

.....

.....

3.- Assenyala quins sectors productius cataloguem com Sector Primari:

.....

.....

.....

Exercici 8.-

Amb les fórmules corresponents, resol el següent problema:

Font: Departament C. Socials

El poble "R" té una població total de 3.000 habitants, el 50% són dones, i d'elles només 1/3 estan en edat fèril. Durant l'últim any s'han produït els següents esdeveniments:

- a) Han nascut 20 persones.
- b) Han mort un total de 15 persones.
- c) Han mort 3 nens menors d'un any.
- d) Han vingut al poble 100 persones.
- e) Han marxat del poble 50 persones.

Es demana : Taxes de Natalitat, Mortalitat, Creixement Vegetatiu, Fertilitat, Mortalitat infantil, Saldo migratori i Taxa de Creixement.

Exercici 9.-

Respon les següents preguntes de vocabulari i d'informació general amb l'ajuda del teu llibre:

Font: Departament C. Socials

1.- AIGÜES TERRITORIALS D'UN ESTAT.-

2.- FES UNA RELACIÓ DE QUINES SÓN LES 6 FUNCIONS BÀSIQUES D'UN ESTAT.-

3.- SEPARACIÓ DE PODERS. DIGUES QUINS SÓN ELS TRES GRANS PODER D'UN ESTAT, I QUINES SÓN LES SEVES FUNCIONS.-

4.- FES UNA RELACIÓ DE 6 ORGANISMES DE L'ONU I LES SEVES FUNCIONS.-

5.- DIGUES QUINS SÓN ELS 3 GRANS SÍMBOLS DE LA UNIÓ EUROPEA.-

6.- FES UNA RELACIÓ DELS 28 PAÏSOS DE LA UNIÓ EUROPEA.-

- | | |
|------|------|
| 1.- | 2.- |
| 3.- | 4.- |
| 5.- | 6.- |
| 7.- | 8.- |
| 9.- | 10.- |
| 11.- | 12.- |
| 13.- | 14.- |
| 15.- | 16.- |
| 17.- | 18.- |
| 19.- | 20.- |
| 21.- | 22.- |
| 23.- | 24.- |
| 25.- | 26.- |
| 27.- | 28.- |

7.- FES UNA RELACIÓ DE LES 28 CAPITALS DELS PAÏSOS DE LA UNIÓ EUROPEA.-

- | | |
|------|------|
| 1.- | 2.- |
| 3.- | 4.- |
| 5.- | 6.- |
| 7.- | 8.- |
| 9.- | 10.- |
| 11.- | 12.- |
| 13.- | 14.- |
| 15.- | 16.- |
| 17.- | 18.- |
| 19.- | 20.- |
| 21.- | 22.- |
| 23.- | 24.- |
| 25.- | 26.- |
| 27.- | 28.- |

8.- FES UNA RELACIÓ DELS PRINCIPALS TIPUS DE PLANS URBANS AMB LES SEVES
CARACTERÍSTIQUES.-

