

TREBALL D'ESTIU

2n d' ESO

DEPARTAMENT DE CIÈNCIES SOCIALS

NOM I COGNOMS :

INDEX :

	PAG.
1.- Exercici 1.- Mapa dels regnes germànics S. VI	3
2.- Exercici 2.- Mapa evolució I. Bizantí.	3
3.- Exercici 3.- Estructura de l'església Catòlica i la societat feudal.	4
4.- Exercici 4.- Informe d'esglésies romàniques i gòtiques.	5
5.- Exercici 5.- Expansió i cronologia de l'Islam.	7
6.- Exercici 6.-Parts fonamentals d'un castell, una ciutat medieval, un monestir...	8
7.- Exercici 7.- El Califat de Còrdova S.X.	10
8.- Exercici 8.- Els Regnes de la P. Ibèrica i els R. De Taifes	11
9.- Exercici 9.- Els territoris cristians del Pirineu, S. X	12
10.- Exercici 10.- Esglésies en la ruta del Camí de Sant Jaume.	13
11.- Exercici 11.- Principals rutes del comerç medieval.	14
12.- Exercici 12.- L' Imperi europeu de Carles I.	15
13.- Exercici 13.- La Reforma religiosa.	16
14.- Exercici 14.- Els grans descobriments geogràfics.	17

Exercici 1.- Mapa, Pinta sobre aquest mapa mut d'Europa **els regnes germànics en el segle VI.**

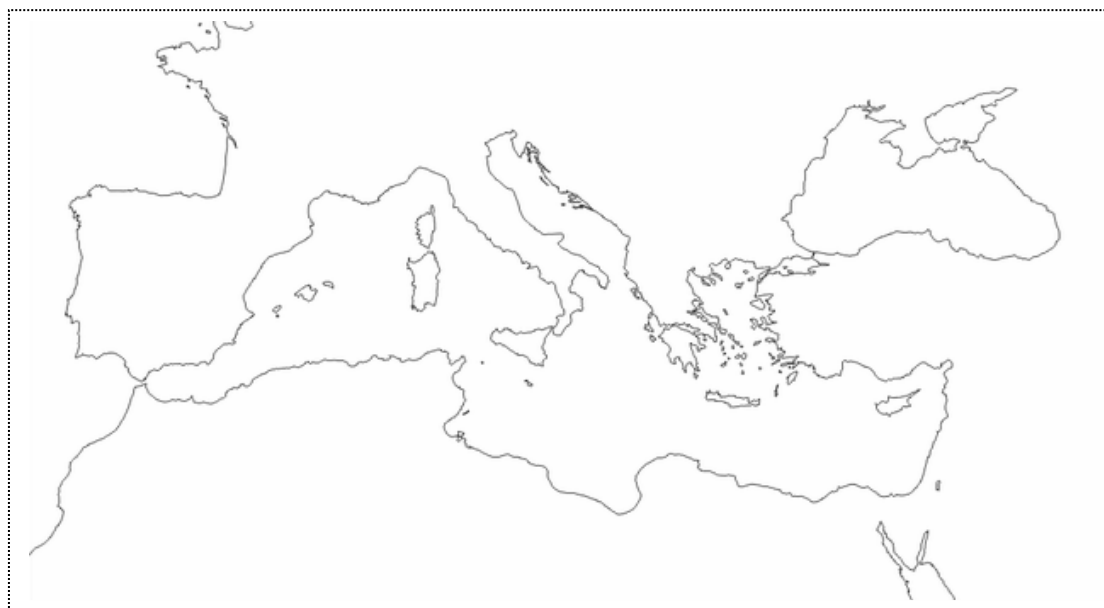
-Font: <http://www.google.es>



LLEGENDA:

Exercici 2.- Pinta sobre aquest mapa mut d'Europa amb l'ajuda del teu llibre de text i internet. **l'evolució de l' Imperi Bizantí.**

-Font: <http://www.google.es>



LLEGENDA:

Exercici 4.- Visualitza les següents imatges d'**esglésies i catedrals romàniques i gòtiques**, i amb l'ajuda d'internet, fes un petit informe. *Ubicació, any de creació, qui la va manar construir, característiques, informació interessant...*

-Font: <http://www.google.es>

ESGLÉSIES ROMÀNIQUES :



SANT CLIMENT DE TAÜLL.-



SANT PERE DE RODA.-



SANTA MARIA DE RIPOLL.-



SANT MARTÍ DE FROMISTA.-

ESGLÉSIES I CATEDRALS GÒTIQUES :



CATEDRAL DE BURGOS.-



MONESTIR DE POBLET.-



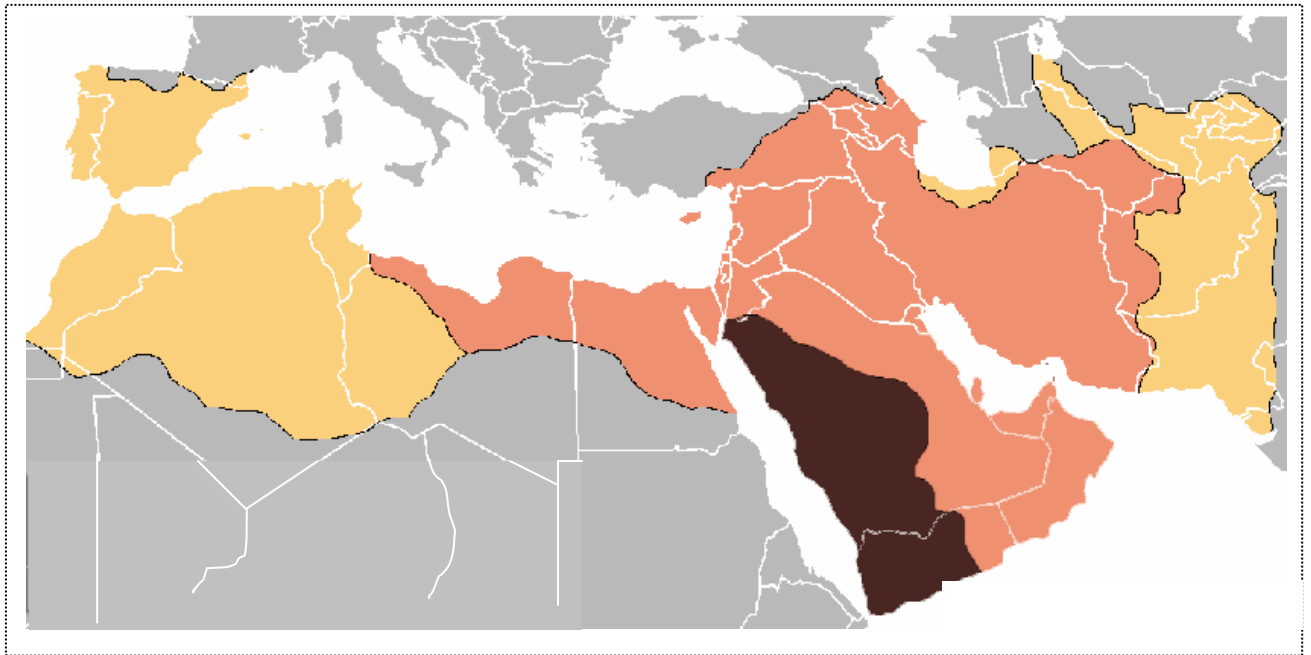
SANTA MARIA DEL MAR.-



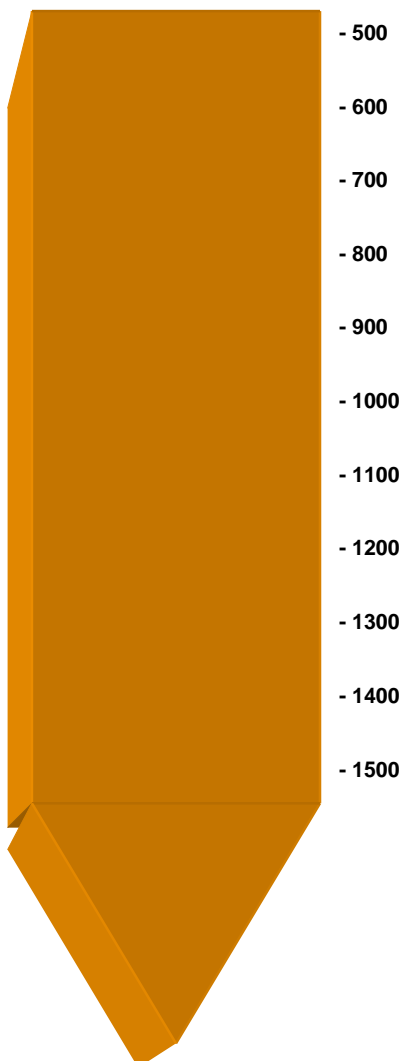
CATEDRAL DE TOLEDO.-

Exercici 5.- Pinta sobre aquest mapa mut d'Europa amb l'ajuda del teu llibre de text i internet. **l'expansió de l'Islam durant l'Edat Mitja, i l'eix cronològic d'aquesta expansió.**

-Font: <http://www.google.es>

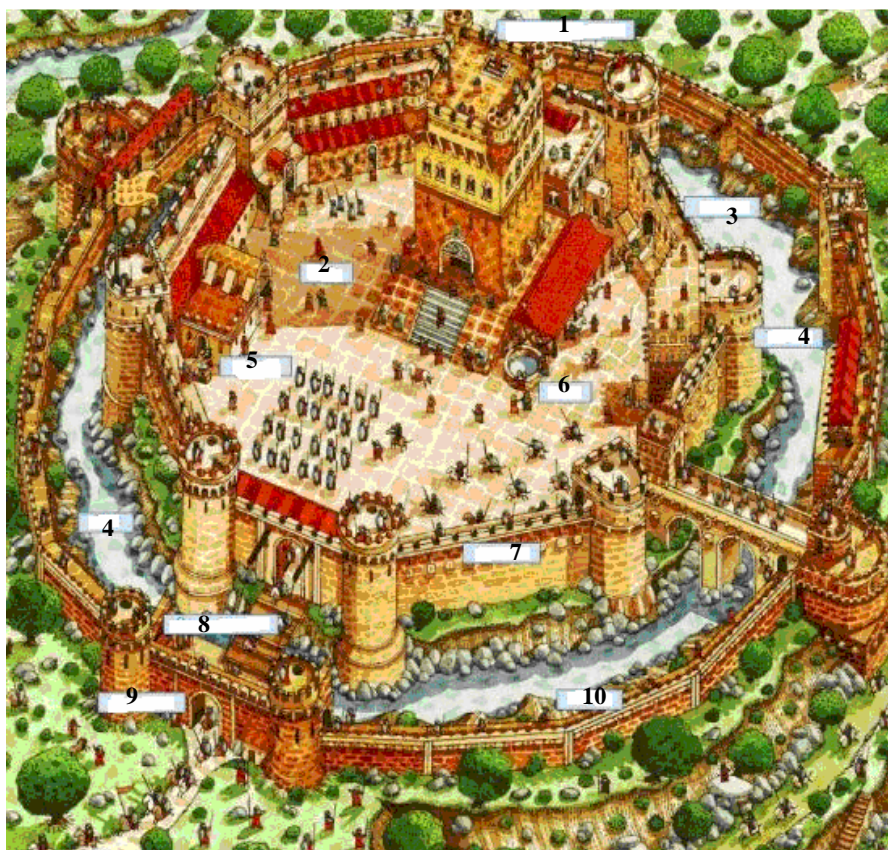


LLEGENDA:




Exercici 6.- Amb l'ajuda del teu llibre i d'internet omple **quines són les parts fonamentals de les imatges que et presentem: Un castell, un monestir, una ciutat islàmica medieval, i una catedral gòtica.**

-Font: <http://www.google.es>



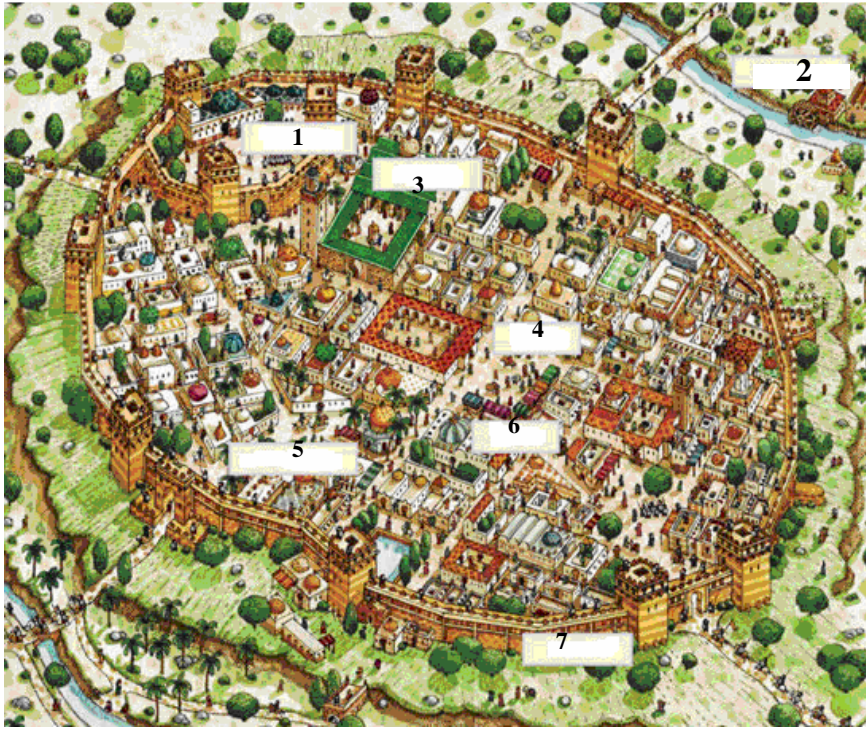
CASTELL

- 1.-
- 2.-
- 3.-
- 4.-
- 5.-
- 6.-
- 7.-
- 8.-
- 9.-
- 10.-




MONESTIR

- 1.-
- 2.-
- 3.-
- 4.-
- 5.-



**CIUTAT ISLÀMICA
MEDIEVAL**

- 1.-
- 2.-
- 3.-
- 4.-
- 5.-
- 6.-
- 7.-



Exercici 7.- **El Califat de Còrdova, S. X.** Amb l'ajuda del teu llibre i d'internet escriu hi tots els conceptes que es demanen.

-Font: <http://www.google.es>



a) Anota al lloc corresponent del mapa :

El nom de les dues ciutats principals del Califat : Còrdova i Sevilla.

b) Abd al –Rahman III va guanyar el seu prestigi en diverses campanyes militars. La més destacada va ser la que va dur a terme sobre Toledo. Escriu el nom d'aquesta ciutat i acoloreix la ruta de la seva campanya.

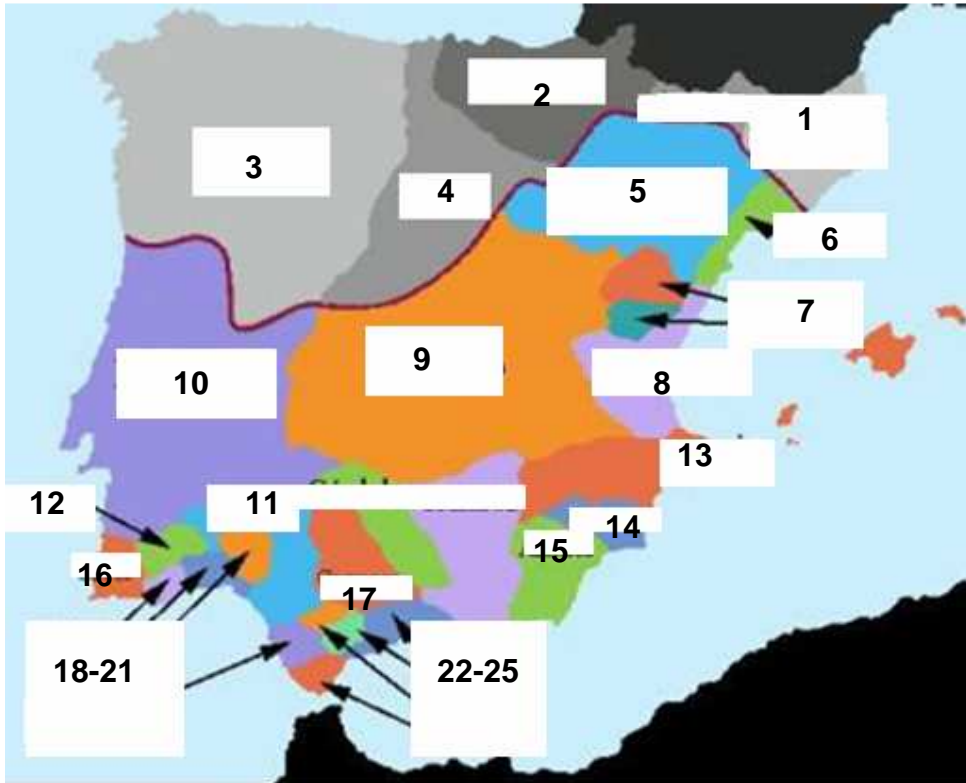
c) Al – Mansur va controlar amb força els regnes cristians per mitjà de nombroses campanyes militars, entre les quals van destacar les següents :

- La de Còrdova a Saragossa, i en què va assaltar PAMPLONA i BURGOS.
- La que va dur a terme a TORTOSA des d'on va arribar a BARCELONA i va saquejar aquesta ciutat.
- La més famosa, la que va fer contra COÏMBRA, ZAMORA, LLEÓ I SANTIGAO DE COMPOSTEL·LA.
- L'última, la que el va dur de nou a terres castellanés poc abans de morir.

ESCRIU ELS NOMS DE LES CIUTATS I ACOLOREIX LES RUTES DE LES SEVES CAMPANYES.

Exercici 8.- Amb l'ajuda del teu llibre i d'internet omple **quins eren els regnes més importants del nord de la península Ibèrica i els regnes de TAIFES més importants al voltant de 1.040, S. XI**

-Font: <http://www.google.es>



LLEGENDA:

- | | |
|------------|------------|
| 1 Regne.- | 2 Regne.- |
| 3 Regne.- | 4 Regne.- |
| 5 Regne.- | 6 Regne.- |
| 7 Regne.- | 8 Regne.- |
| 9 Regne.- | 10 Regne.- |
| 11 Regne.- | 12 Regne.- |
| 13 Regne.- | 14 Regne.- |
| 15 Regne.- | 16 Regne.- |
| 17 Regne.- | 18 Regne.- |
| 19 Regne.- | 20 Regne.- |
| 21 Regne.- | 22 Regne.- |
| 23 Regne.- | 24 Regne.- |
| 25 Regne.- | |

Exercici 9.- Amb l'ajuda del teu llibre i d'internet omple els noms dels **territoris cristians als Pirineus, al final del segle X, i fes una breu biografia del comte Guifré el Pelòs.**

-Font: <http://www.google.es>



LLEGENDA:

- | | |
|------|------|
| 1.- | 2.- |
| 3.- | 4.- |
| 5.- | 6.- |
| 7.- | 8.- |
| 9.- | 10.- |
| 11.- | 12.- |

GUIFRÉ EL PELÒS

Exercici 10.- Amb l'ajuda d'internet fes un petit informe de les següents esglésies de la ruta del Camí de S. Jaume. any de creació, qui la va manar construir, característiques, informació interessant...

-Font: <http://www.google.es>



Catedral de León



Santa Maria Magdalena de Vezelay



Catedral de Santiago de Compostela

Exercici 11.- **Principals rutes del comerç medieval.** Amb l'ajuda del teu llibre de text i d'internet omple el següent mapa amb:

Àrees comercials principals. Rutes comercials i fires. Productes comercials. Ciutats més importants en el tràfic comercial.

-Font: <http://www.google.es>

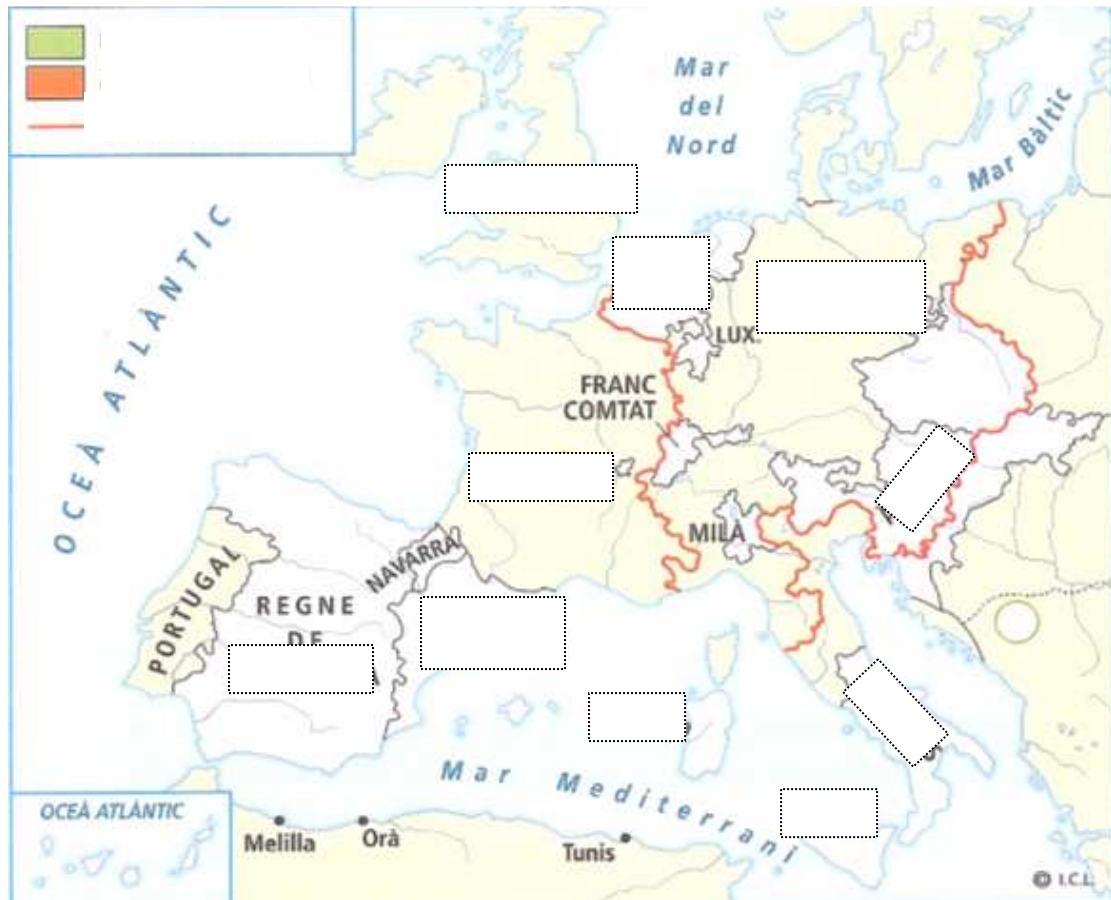


PRINCIPALS FIRES :

PRINCIPALS PORTS I CIUTATS :

Exercici 12.- **L'imperi europeu de Carles I.** Amb l'ajuda del teu llibre de text i d'internet omple el següent mapa i respon les qüestions plantejades.

-Font: <http://www.google.es>



L'IMPERI EUROPEU DE CARLES I

- 1 Per treballar el mapa de la làmina sobre l'imperi de Carles I, has de tenir en compte la llegenda i seguir els passos assenyalats a continuació:
 - a) En primer lloc, escriu al mapa els noms dels territoris, anotats en cursiva, que Carles I va rebre en herència:
 - Del seu pare, Felip de Borgonya, va rebre els *Països Baixos*, *Luxemburg* i el *Franc Comtat*.
 - De la seva mare, Joana de Castella, va rebre *Navarra* i el *regne de Castella*, a més de *Melilla*, *Orà*, les illes *Canàries* i els territoris americans.
 - Del seu avi matern, Ferran d'Aragó, va heretar la *Corona d'Aragó*, *Nàpols* i les illes de *Sicília* i *Sardenya*.
 - I del seu altre avi, Maximilià d'Àustria, va rebre les possessions alemanyes dels Habsburg entre les quals hi havia *Àustria*.
 - b) A continuació, acoloreix cadascun dels territoris que has anotat al mapa segons el color que indica la llegenda.
 - c) L'herència del seu avi Maximilià d'Àustria, a més de constar de diversos territoris, comportava els drets de successió a la corona de l'imperi alemany. Apunta al mapa *Imperi alemany* i ressegueix-ne els límits amb el color corresponent de la llegenda.
 - d) Entre els problemes interns als quals va haver de fer front Carles I al començament del seu regnat van destacar la revolta de les *Comunitats* i les *Germanies*.
Escriu aquestes paraules al costat dels signes de revoltes situats a les seves possessions espanyoles.
 - e) En els conflictes exteriors, Carles I es va enfrontar a França pel control del ducat de *Milà*, i la va derrotar a la batalla de Pavia. I per impedir l'expansió dels turcs pel Mediterrani, Carles I va ocupar *Tunísia*.
Anota al mapa el nom d'ambdós llocs i acoloreix-los amb el color de la llegenda referent a les conquestes de Carles I.
 - f) El germà de Carles I, Ferran, va ser elegit rei de *Bohèmia* i d'*Hongria* i es va haver d'enfrontar a l'expansió de l'*Imperi Turc* cap a l'Europa central.
Escriu el nom dels territoris en cursiva i acoloreix-los segon s'indica a la llegenda, tenint en compte que Hongria va ser ocupada pels turcs.

2 Defineix aquests conceptes:

- *Pau d'Augsburg*:
- *Germanies*:
- *Villalar*:

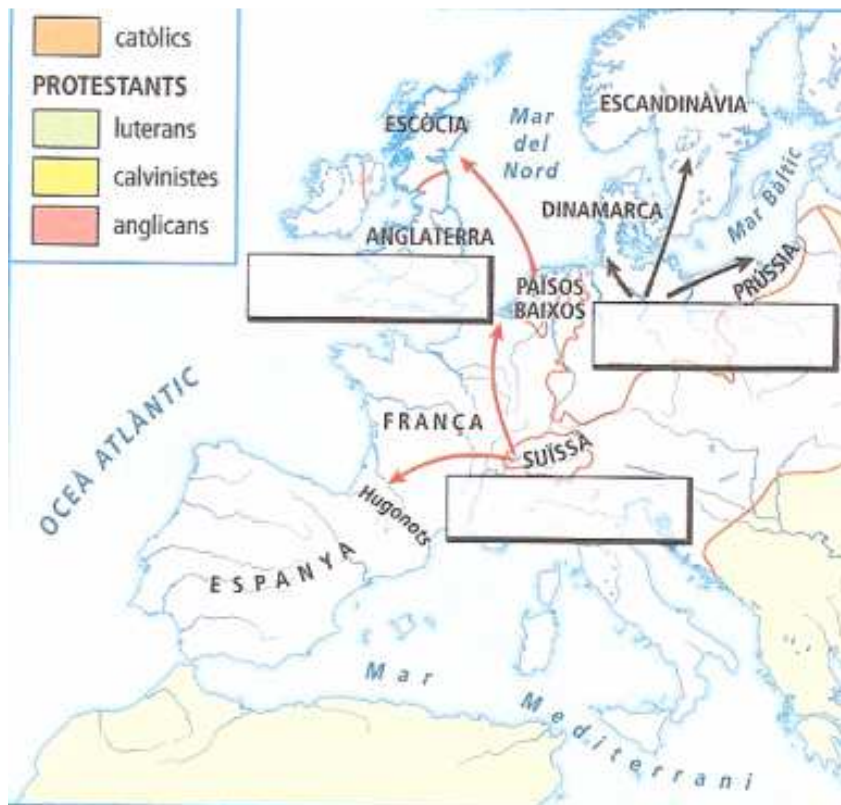
3 Escriu el nom d'aquestes persones al costat del fet amb el qual es relacionen:

Padilla *Maximilià* *Francesc I* *Luter*

- *Rei de França*:
- *Emperador d'Alemanya*:
- *Protestantisme*:
- *Cap dels comuns*:

Exercici 13.- **La Reforma religiosa.** Amb l'ajuda del teu llibre de text i d'internet omple el següent mapa i respon les qüestions plantejades.

-Font: <http://www.google.es>



a) A partir de la llegenda del mapa, coloreix els territoris que estan en blanc segons quina era la doctrina majoritària.

b) Escriu al mapa el nom de l'impulsor de cada Església reformada.

c) Completa les frases següents:

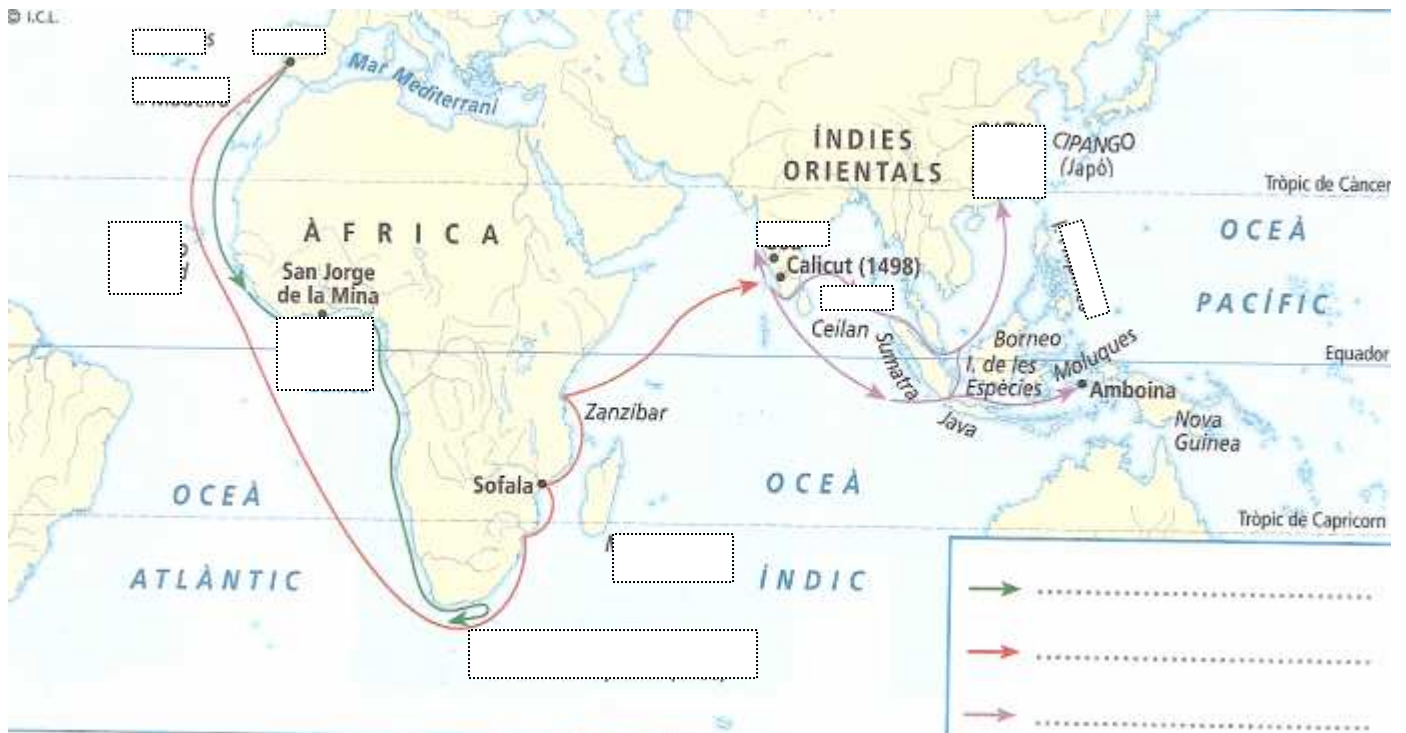
– Els prínceps i els
alemanys van donar suport a
per reforçar la seva
davant Carles V i el

– Des d'Alemanya, les doctrines de Luter
es van expandir per

– El calvinisme es va estendre pels i pel sud de
on van rebre el nom de

Exercici 14.- **El grans descobriments geogràfics.** Amb l'ajuda del teu llibre de text i d'internet omple el següent mapa i respon les qüestions plantejades.

-Font: <http://www.google.es>



Fes una breu biografia de:

HERNAN NÚÑEZ CABEZA DE VACA.-

HERNAN CORTES.-

FRANCISCO PIZARRO.-

IES GABRIEL FERRATER * REUS

Departament de Ciències Socials

CURS 2011 - 2012